

Mesures et instrumentation

Measurement and instrumentation

**Ref :
293 057**

Français – p 1

English – p 17

Version : 9001

**Générateur triphasé très basse
tension**

***Extra-low voltage three-phase
generator***



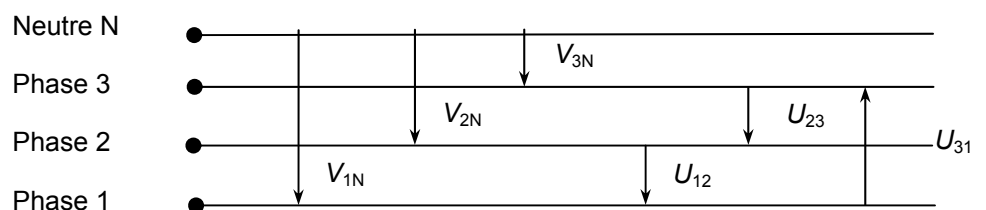
- ① interrupteur marche – arrêt
- ② voyant de mise sous tension
- ③ commutateur de tension : $3 \times 6 \text{ V} - 3 \times 9 \text{ V}$ efficace entre phase et neutre
- ④ commutateur de fréquence : $0,1 \text{ Hz} - 1 \text{ Hz} - 50 \text{ Hz} - 150 \text{ Hz}$ et “ $0,1 \text{ Hz}$ ” à déplacement manuel
- ⑤ bornes de sortie

1 Mesure des tensions simples et composées

Dans une installation triphasée nous disposons de trois phases et d'un neutre.

La tension entre une phase et le neutre est appelée la tension simple ; sa valeur efficace est notée : V .

La tension entre deux phases est appelée la tension composée ; sa valeur efficace est notée : U .



1.1 Objectif

Vérifier la relation entre tension simple V et tension composée U :

$$U = V \times \sqrt{3}$$

1.2 Matériel

- Un générateur triphasé très basse tension,
- trois voltmètres numériques,
- six fils de connexion.

1.3 Mesures

- Mesurer les tensions simples et les tensions composées,
- compléter le tableau de mesures.

Exemple de résultats :

Calibre	Tensions simples			Tensions composées		
	V_{1N}	V_{2N}	V_{3N}	U_{12}	U_{23}	U_{31}
$3 \times 6 \text{ V}$						
$3 \times 9 \text{ V}$	$V_{1N} = 8,9 \text{ V}$	$V_{2N} = 8,9 \text{ V}$	$V_{3N} = 8,9 \text{ V}$	$U_{12} = 15,5 \text{ V}$	$U_{23} = 15,3 \text{ V}$	$U_{31} = 15,4 \text{ V}$

- Comparer pour chacun des deux calibres les valeurs des tensions simples V puis des tensions composées U .
- Vérifier la relation $U = V \times \sqrt{3}$

2 Visualisation des tensions à l'aide de ESAO4 et de Génériss

2.1 Objectif


- Visualiser en régime sinusoïdal triphasé : les tensions entre phase et neutre ainsi que les tensions entre phases.
- Vérifier qu'un système triphasé de tensions est un système de trois tensions sinusoïdales, de même amplitude, de même fréquence, décalées d'un tiers de période l'une par rapport à l'autre.
- Vérifier que les tensions composées sont en avance de $\frac{\pi}{6}$ par rapport aux tensions simples.
- Construire le diagramme de Fresnel des tensions simples et des tensions composés (voir 4).

2.2 Matériel

- un générateur triphasé très basse tension (9V - 1 Hz),
- un ordinateur avec Généris,
- une console ESAO4,
- trois adaptateurs voltmètre,
- six fils de connexion.

Tensions simples

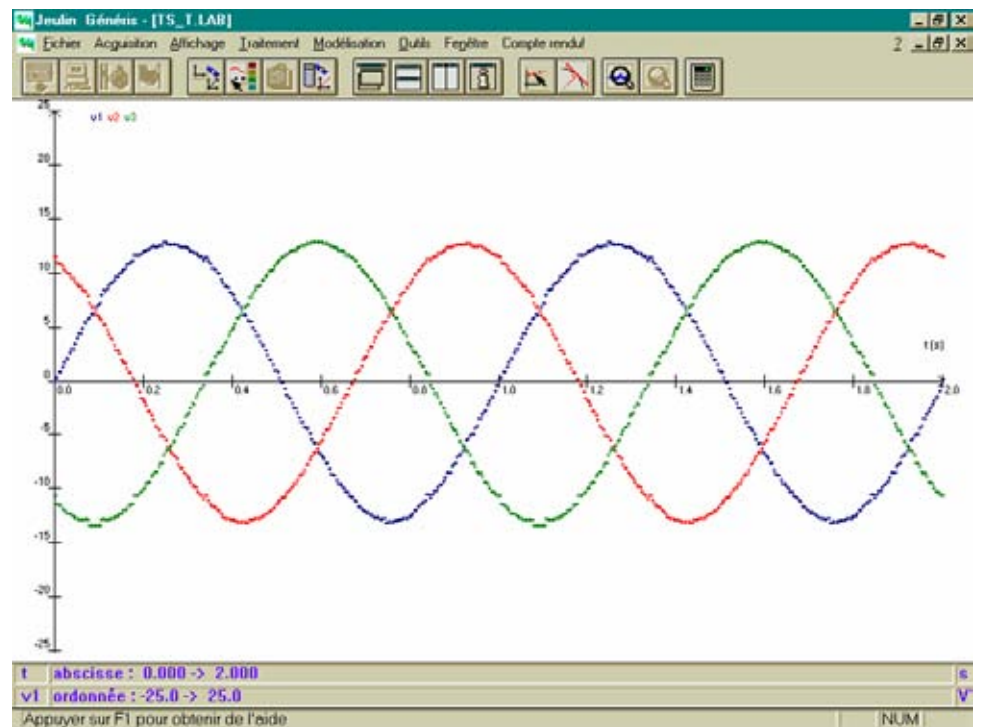
2.3 Montage



2.4 Manipulation

- Réaliser le montage.
- Allumer l'ordinateur puis cliquer sur l'icône « Généris » (les voyants de la console s'allument).
- Sélectionner l'icône « Test et calibrage »
 - Sélectionner : Voie : Voltmètre /
Calibre : ⊙ 25 V
⊙ instantanée
 - Régler le zéro
 - Cliquer sur OK
 - Sélectionner : Voie : Voltmètre//
Calibre : ⊙ 25 V
⊙ instantanée
 - Régler le zéro
 - Cliquer sur OK
 - Sélectionner : Voie : Voltmètre///
Calibre : ⊙ 25 V
⊙ instantanée

- Régler le zéro
- Cliquer sur OK
- Sélectionner l'icône « Paramètres »
 - Valider : Mode d'acquisition : f(t) ▼
Durée d'acquisition : 2 s ▼
Nombre de points : 501 ▼
 Synchronisation
 - Sélectionner : Voies en ordonnée : Voltmètre/
Voltmètre//
Voltmètre//
 - Cliquer sur « Synchro »
 - Sélectionner : Voie : Voltmètre/ ▼
Niveau : 0
Synchronisation Croissant
 - Cliquer sur OK
 - Cliquer sur OK
- Sélectionner l'icône « Lancer »
 - Sélectionner : Grandeur : v1
Noms des courbes à acquérir : v1(t)
Grandeur : v2
Noms des courbes à acquérir : v2(t)
Grandeur : v3
Noms des courbes à acquérir : v3(t)
 - Cliquer sur « Acquisition »



2.5 Exploitation des courbes

- Cliquer sur l'icône « Représentation des courbes »
 - Sélectionner : Echelles : Automatiques.
- Cliquer sur l'icône « Couleurs & Styles » pour modifier la couleur et le trait des courbes.

« Les courbes obtenues semblent être la représentation graphique de trois fonctions sinusoïdales, de même amplitude, de même pulsation et présentant entre elles le même déphasage » :

$$v_1(t) = \hat{U} \times \sin(\omega \cdot t)$$

$$v_2(t) = \hat{U} \times \sin\left(\omega \cdot t + \frac{2\pi}{3}\right)$$

$$v_3(t) = \hat{U} \times \sin\left(\omega \cdot t + \frac{4\pi}{3}\right)$$

- Cliquer sur l'icône « Pointeur »
 - Utiliser le réticule pour mesurer :
 - la période de chacune des tensions simples (pointer le point "origine", glisser la souris jusqu'au point "extrémité" tout en maintenant le clic gauche pendant toute l'opération et lire la valeur de la période dans la barre Légende) ;
 - le décalage des tensions simples les unes par rapport aux autres ;
 - la valeur maximale de chacune des tensions simples.

Utiliser la Loupe pour améliorer la lecture.

- Sélectionner « Modélisation » puis « Fonction »
 - Sélectionner :

Courbe à modéliser : u1(t) ▼

$$v_1(t) = a \cdot \sin(w \cdot t)$$

Intervalle : de 0 (par exemple) à 2 (par exemple)

Nom : V1(V) (par exemple)

Paramètres a 12.8 (par exemple)

w 6.28 (par exemple)

- Cliquer sur « Tracier »
- Ajuster la courbe en sélectionnant a 12.8 (par exemple)
 w 6.28 (par exemple)
- Cliquer sur « Tracier » puis « Oui »

On obtient par exemple : Paramètres a 12.7
w 6.25

Ecart type S = 319mV

- Cliquer sur « Conserver » puis « Terminer »

Effectuer les même recherches pour :

$$v_2(t) = a \cdot \sin(w \cdot t + b)$$

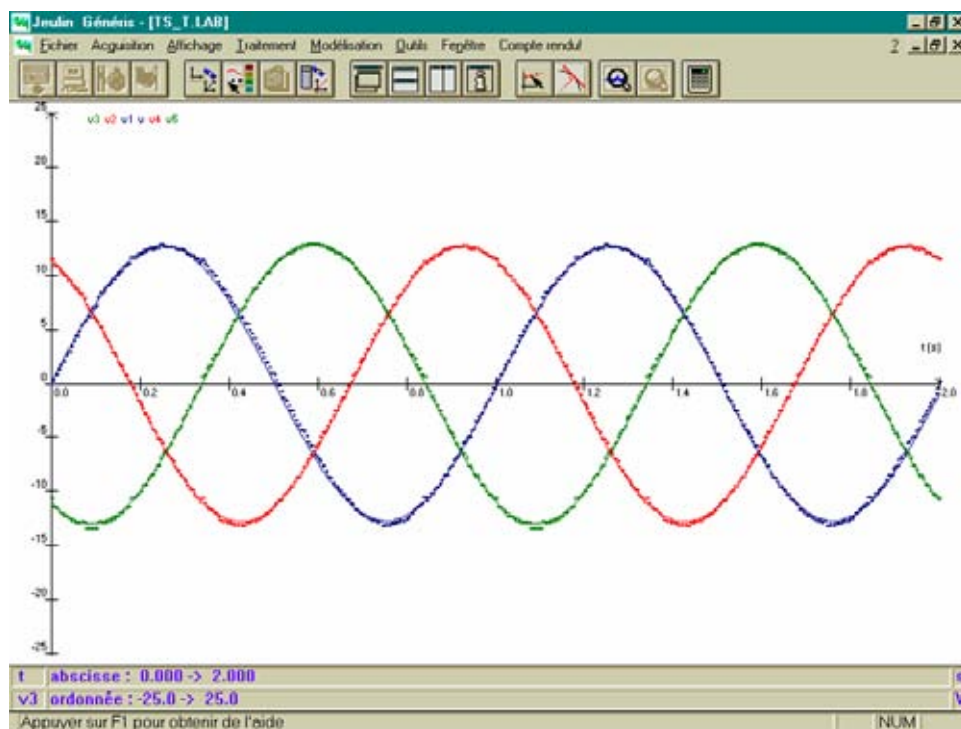
et

$$v_3(t) = a \cdot \sin(w \cdot t + b)$$

On obtient par exemple :

Paramètres a 12.8
 w 6.29
 b 2.02
 Ecart type S = 201 mV

Paramètres a 12.9
 w 6.27
 b 4.14
 Ecart type S = 209 mV



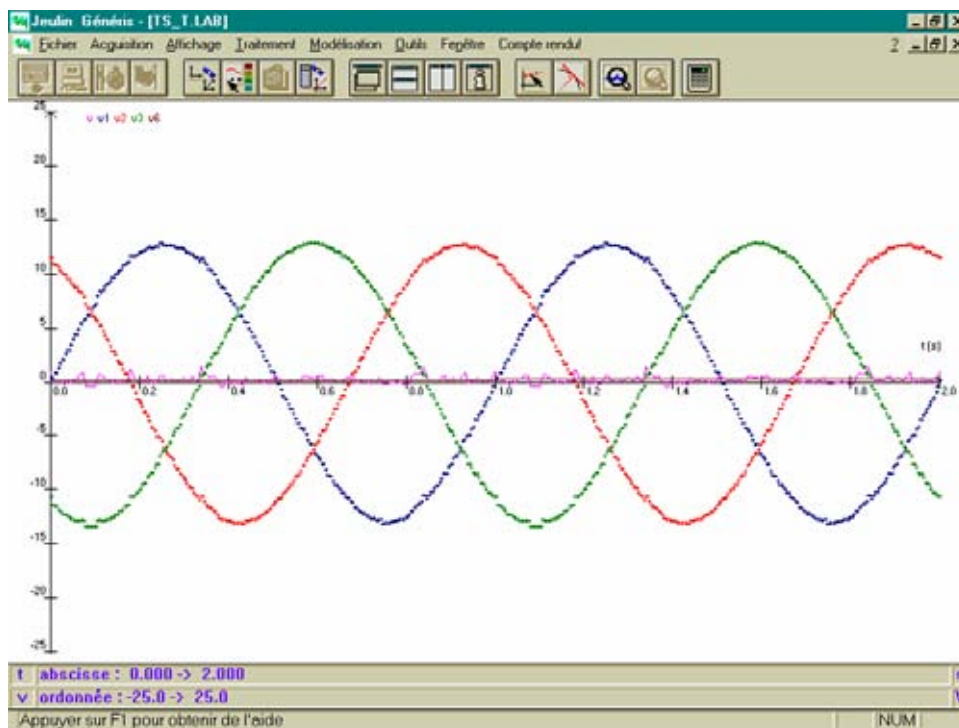
Vérifier que $v_1(t) + v_2(t) + v_3(t) = 0$ ($\vec{V}_1 + \vec{V}_2 + \vec{V}_3 = \vec{0}$).

- Sélectionner « Traitement » puis « Formule »
 - Sélectionner : Courbe à traiter : v1(t) ▼
 Ordonnée Nom : v
 Unité S.I. : V
 Formule v = : v1+v2+v3
 Courbe résultante : v(t)
 - Cliquer sur « Tracer » puis « Conserver » puis « Terminer »
- Sélectionner « Traitement » puis « Régression »
 - Sélectionner : Courbe à traiter : v(t) ▼
 Intervalle de traitement Début : 0
 Fin : 2
 Equation : V(t)

- Cliquer sur « Tracer »


On lit par exemple : $23.9E-3 t + 182E-3$

Coefficient de corrélation : 0.2%



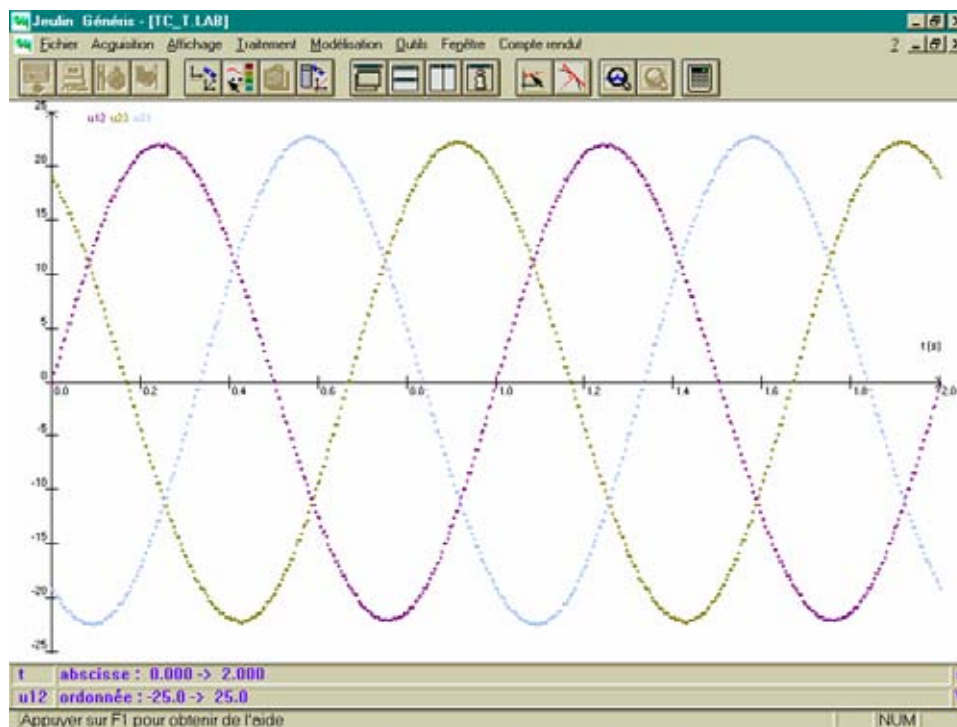
Tensions composées

2.6 Montage



2.7 Manipulation

- Réaliser le montage.
- Sélectionner l'icône « Test et calibrage »
 - Sélectionner : Voie : Voltmètre /
Calibre : \odot 25 V
 \odot instantanée
 - Régler le zéro
 - Cliquer sur OK
 - Sélectionner : Voie : Voltmètre//
Calibre : \odot 25 V
 \odot instantanée
 - Régler le zéro
 - Cliquer sur OK
 - Sélectionner : Voie : Voltmètre///
Calibre : \odot 25 V
 \odot instantanée
 - Régler le zéro
 - Cliquer sur OK
- Sélectionner l'icône « Paramètres »
 - Valider : Mode d'acquisition, f(t) ▼
Durée d'acquisition : 2 s ▼
Nombre de points : 501 ▼
 Synchronisation
 - Sélectionner : Voies en ordonnée : Voltmètre/
Voltmètre//
Voltmètre///
 - Cliquer sur « Synchro »
 - Sélectionner : Voie : Voltmètre/ ▼
Niveau : 0
Synchronisation
 \odot Croissant
 - Cliquer sur OK
 - Cliquer sur OK
- Sélectionner l'icône « Lancer »
 - Sélectionner : Grandeur : u12
Noms des courbes à acquérir : u12(t)
Grandeur : u23
Noms des courbes à acquérir : u23(t)
Grandeur : u31
Noms des courbes à acquérir : u31(t)
 - Cliquer sur « Acquisition »



2.8 Exploitation des courbes

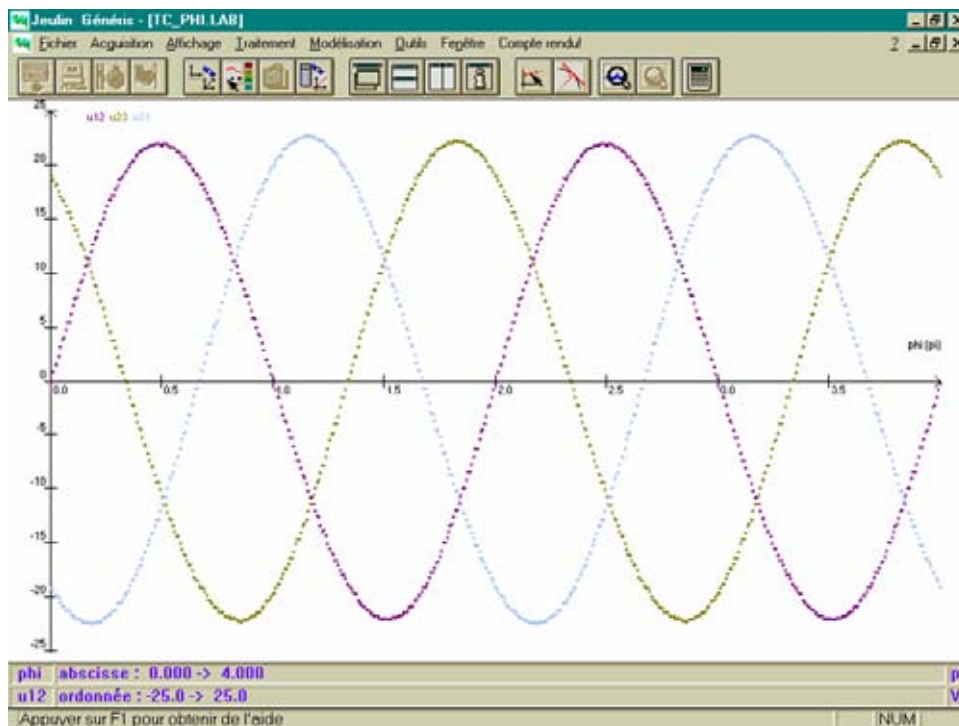
- Cliquer sur l'icône « Représentation des courbes »
 - Sélectionner : Echelles : ☉ Automatiques.
 - Cliquer sur l'icône « Couleurs & Styles » pour modifier la couleur et le trait des courbes.

Représenter $u_{12}(\pi)$, $u_{23}(\pi)$ et $u_{31}(\pi)$.

- Sélectionner « Traitement » puis « Transformation »
 - Sélectionner : Courbe à transformer : u12(t) ▼

Abscisse	Unité S.I. :	pi
	Expression :	2*t
Ordonnée	Nom :	u12
	Unité S.I. :	V
Expression : u12		
Courbe transformée : u12(phi)		
 - Cliquer sur « Traçer » puis « Conserver » puis « Terminer »

Opérer de même avec les courbes $u_{23}(t)$ et $u_{31}(t)$.




- Cliquer sur l'icône « Pointeur »
 - Utiliser le réticule pour mesurer :
 - la période de chacune des tensions composées ;
 - le décalage des tensions composées les unes par rapport aux autres ;
 - la valeur maximale de chacune des tensions composées.

Utiliser la Loupe pour améliorer la lecture.

Tensions simples et tensions composées

2.9 Montage



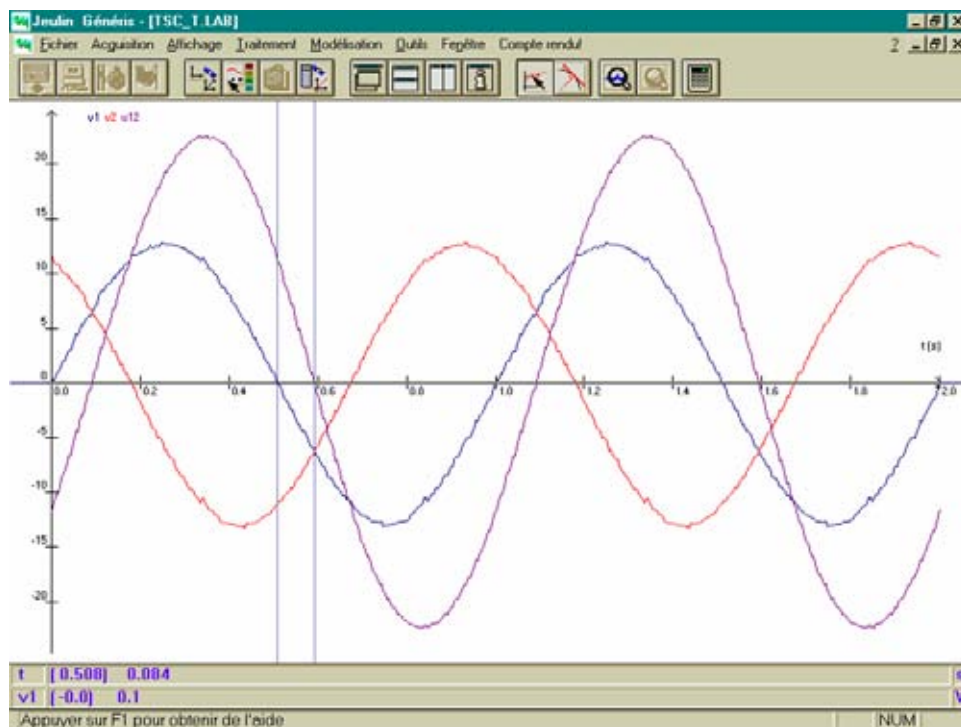
2.10 Manipulation

- Réaliser le montage.
- Allumer l'ordinateur puis cliquer sur l'icône « Génériss » (les voyants de la console s'allument).
- Sélectionner l'icône « Test et calibrage »
 - Sélectionner : Voie : Voltmètre /
Calibre : 25 V
Instantanée
 - Régler le zéro
 - Cliquer sur OK
 - Sélectionner : Voie : Voltmètre//
Calibre : 25 V
Instantanée
 - Régler le zéro
 - Cliquer sur OK
 - Sélectionner : Voie : Voltmètre///
Calibre : 25 V
Instantanée
 - Régler le zéro
 - Cliquer sur OK
- Sélectionner l'icône « Paramètres »
 - Valider Mode d'acquisition : f(t) ▼
Durée d'acquisition : 2 ms ▼
Nombre de points : 501 ▼
 Synchronisation

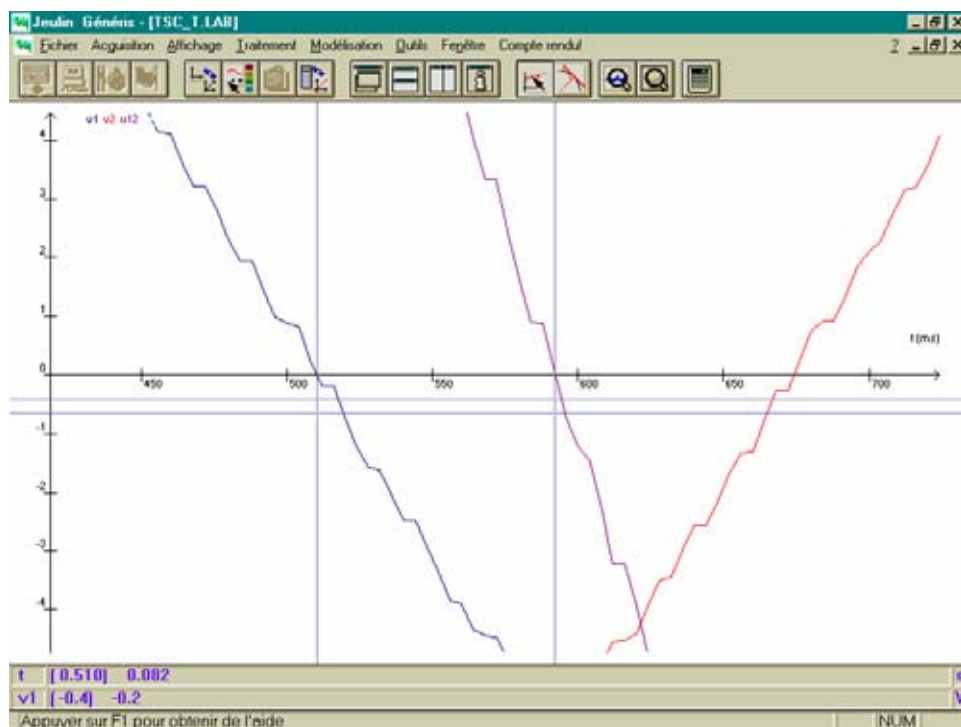
- Sélectionner : Voies en ordonnée : Voltmètre/
Voltmètre//
Voltmètre//
- Cliquer sur « Synchro »
- Sélectionner : Voie : Voltmètre/ ▼
Niveau : 0
Synchronisation
 Croissant
- Cliquer sur OK
- Cliquer sur OK
- Sélectionner l'icône « Lancer »
 - Sélectionner : Grandeur : v1
Noms des courbes à acquérir : v1(t)
Grandeur : v2
Noms des courbes à acquérir : v2(t)
Grandeur : u12
Noms des courbes à acquérir : u12(t)
- Cliquer sur « Acquisition »

2.11 Exploitation des courbes

- Cliquer sur l'icône « Représentation des courbes »
 - Sélectionner : Echelles : Automatiques.
- Cliquer sur l'icône « Couleurs & Styles » pour modifier la couleur et le trait des courbes.
- Cliquer sur l'icône « Pointeur »
 - Utiliser le réticule pour mesurer :
 - la période de chacune des tensions simples et composée ;
 - le décalage de la tensions composée u_{12} par rapport à la tension simple v_1 ;
 - la valeur maximale de chacune des tensions.



Utiliser la Loupe pour améliorer la lecture.



- Sélectionner « Traitement » puis « Formule »
 - Sélectionner : Courbe à traiter : $v_1(t)$ ▼
Ordonnée Nom : U12
Unité S.I. : V
Formule U = : $v_1 - v_2$
Courbe résultante : U12(t)
 - Cliquer sur « Tracer » puis « Conserver »

Comparer $u_{12}(t)$ et U12(t).

3 Visualisation des tensions à l'aide d'un oscilloscope

3.1 Objectif (voir 2)

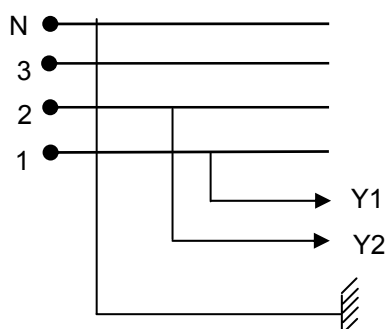
3.2 Matériel

- un générateur triphasé très basse tension ;
- un oscilloscope bicourbe ;
- quatre fils de connexion.

3.3 Manipulation

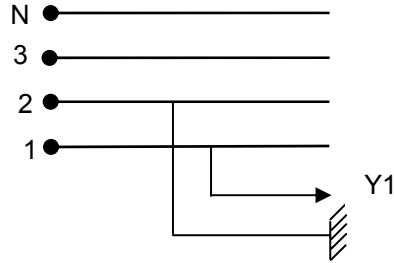
Travailler avec la fréquence 150 Hz pour obtenir un signal stable.

- ❖ Visualiser v_1 et v_2



- Appuyer sur le bouton poussoir INVERT Y2 pour visualiser $-v_2$
- Appuyer sur le bouton poussoir ADD pour visualiser $v_1 - v_2$
- Relever l'oscillogramme

❖ Visualiser u_{12}



- Comparer les deux signaux $v_1 - v_2$ et u_{12} .

Pour visualiser les trois tensions, utiliser un interrupteur va et vient pour les phases 2 et 3.

4 Représentation de Fresnel des tensions

On associe à chaque signal sinusoïdal $u(t)$ un vecteur de Fresnel \vec{U} qui tourne à la vitesse angulaire ω .

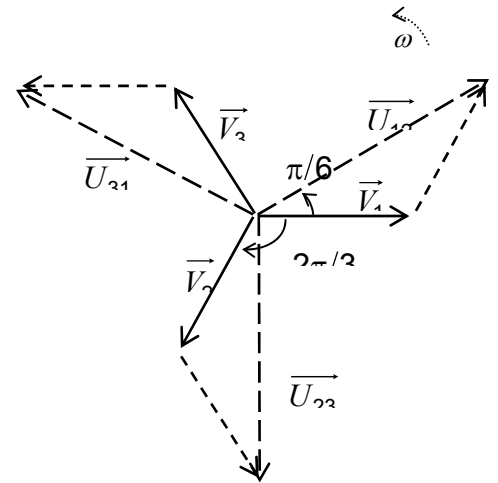
Représenter les vecteurs de Fresnel \vec{V}_1 , \vec{V}_2 et \vec{V}_3 associés aux trois tensions simples v_{1N} , v_{2N} et v_{3N} .

Représenter le vecteur de Fresnel \vec{U}_{12} associé à la tension composée u_{12} sachant que : $u_{12} = v_{1N} + v_{N2}$

Soit $\vec{U}_{12} = \vec{V}_1 - \vec{V}_2$

Vérifier graphiquement la relation entre tension simple et tension composée.

Un tel système est dit équilibré.



5 Service après vente

La garantie est de 2 ans, le matériel doit être retourné dans nos ateliers.
 Pour toutes réparations, réglages ou pièces détachées, veuillez contacter :

JEULIN - SUPPORT TECHNIQUE
 Rue Jacques Monod
 BP 1900
 27 019 EVREUX CEDEX FRANCE
 0 825 563 563 *
 * 0,15 € TTC/ min à partir d'un poste fixe

NOTES



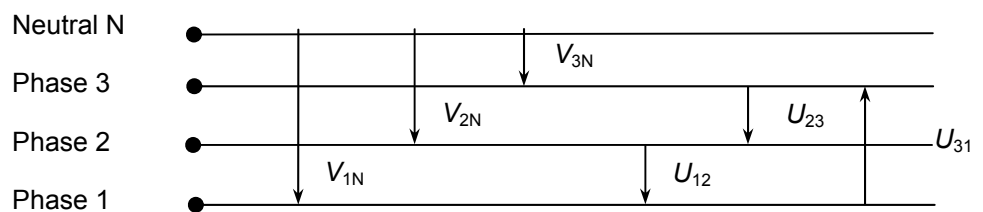
- ① On – off switch
- ② Power-on indicator lamp
- ③ Voltage selector switch: $3 \times 6 \text{ V} - 3 \times 9 \text{ V}$ RMS between the live and neutral
- ④ Frequency selector switch: 0.1 Hz - 1 Hz - 50 Hz - 150 Hz and “0.1 Hz” with manual displacement
- ⑤ Output terminals

1 Measuring the phase to ground and phase to phase voltages

In a three-phase installation there are three lives and one neutral wire.

The voltage between the phase and the neutral is called phase to ground voltage; its effective value is noted as: V .

The voltage between the two phases is called the line voltage; its effective value is noted as: U .



1.1 Objective

To check the relation between phase to ground voltage V and line voltage U :

$$U = V \times \sqrt{3} .$$

1.2 Equipment

- An extra-low voltage three-phase generator;
- Three digital voltmeters
- Six connecting wires.

1.3 Measurements

- Measure the phase to ground and line voltages; complete the table of measurements.

Example of results:

Rated capacity	Phase to ground voltages			Line voltages		
	V_{1N}	V_{2N}	V_{3N}	U_{12}	U_{23}	U_{31}
$3 \times 6 \text{ V}$						
$3 \times 9 \text{ V}$	$V_{1N} = 8.9 \text{ V}$	$V_{2N} = 8.9 \text{ V}$	$V_{3N} = 8.9 \text{ V}$	$U_{12} = 15.5 \text{ V}$	$U_{23} = 15.3 \text{ V}$	$U_{31} = 15.4 \text{ V}$

- Compare for each of the two rated capacities the values of the phase to ground voltages V then the line voltages U .
- Check the relation $U = V \times \sqrt{3}$

2 Viewing the voltages using ESAO4 and Générís

2.1 Objective


- To view in three-phase sinusoidal mode: The voltages between the phase and the neutral
The voltages between the phases.
- To verify that a three-phase voltage system is a system with three sinusoidal voltages having the same amplitude, same frequency and offset one from the other by a third of a period
- To verify that the line voltages are leading by $\frac{\pi}{6}$ from the phase to ground voltages
- To construct Fresnel's diagram for the phase to ground and line voltages (see 4).

2.2 Equipment

- An extra-low voltage three-phase generator (9V - 1 Hz)
- A computer with Générís installed
- ESAO4 console
- Three voltmeter adaptors
- Six connecting wires.

Phase to ground voltages

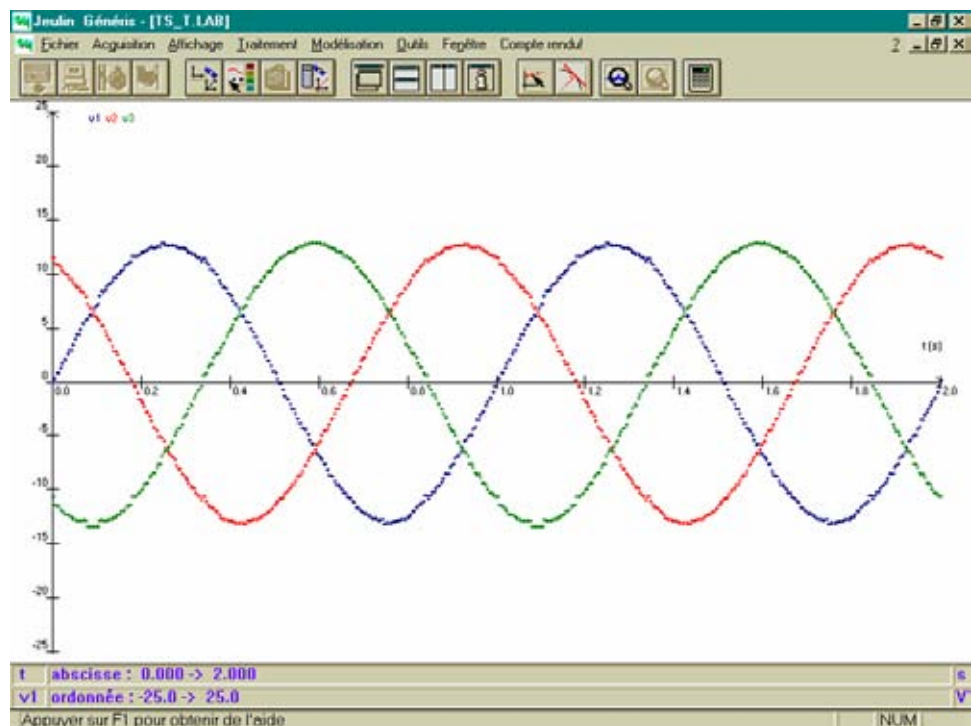
2.3 Set-up



2.4 Experiment

- Perform the assembly.
- Start the computer; click on the Générís icon (the indicator lamp on the console comes on).
- Select the Test and calibrate icon
 - Select: Channel: **Voltmeter /**
Rated capacity: 25 V
 Instantaneous
 - Adjust the zero
 - Click on OK
 - Select: Channel: **Voltmeter //**
Rated capacity: 25 V
 Instantaneous
 - Adjust the zero
 - Click on OK
 - Select: Channel: **Voltmeter ///**
Rated capacity: 25 V
 Instantaneous

- Adjust the zero
- Click on OK
- Select the Parameters icon
 - Validate: Acquisition mode: f(t) ▼
 Acquisition time: 2 s ▼
 Number of points: 501 ▼
 Synchronisation
 - Select: Channels on the ordinate: Voltmeter/
 Voltmeter//
 Voltmeter///
 - Click on Synchrono...
 - Select: Channel: Voltmeter/ ▼
 Level: 0
 Synchronisation Increasing
 - Click on OK
 - Click on OK
- Select the Launch icon
 - Select: Magnitude: v1
 Names of the curves to be acquired: v1(t)
 Magnitude: v2
 Names of the curves to be acquired: v2(t)
 Magnitude: v3
 Names of the curves to be acquired: v3(t)
 - Click on Acquisition



Carry out the same search for:

$$v_2(t) = a \cdot \sin(\omega t + b)$$

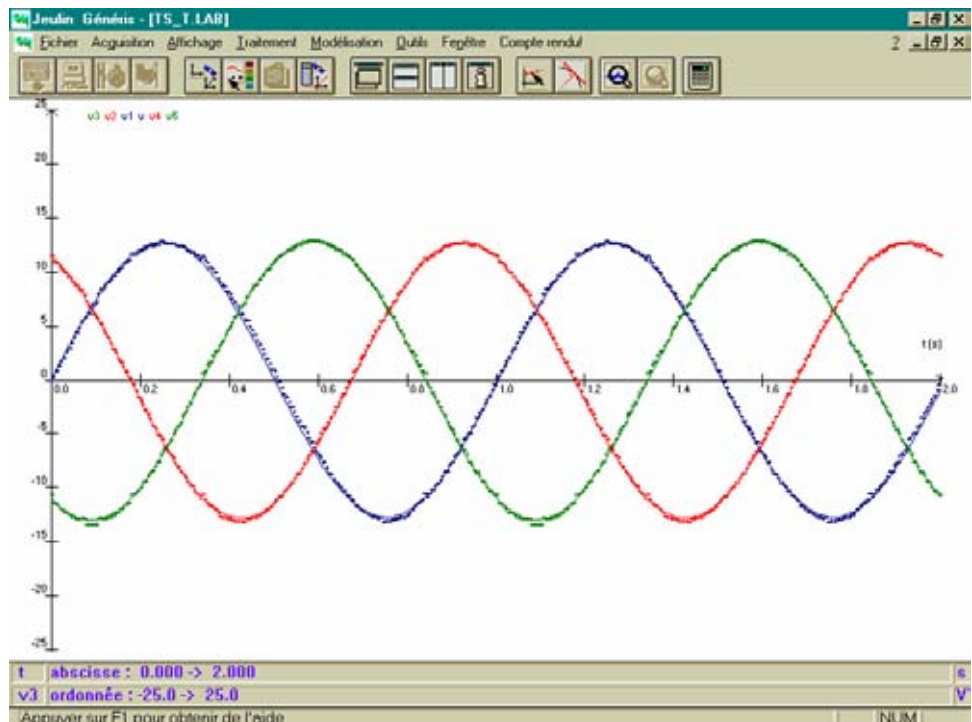
and

$$v_3(t) = a \cdot \sin(\omega t + b)$$

We obtain for example:

Parameters a 12.8
 w 6.29
 b 2.02
 Standard deviation S =
 201mV

Parameters a 12.9
 w 6.27
 b 4.14
 Standard deviation S =
 209mV



Check that $v_1(t) + v_2(t) + v_3(t) = 0$ ($\vec{V}_1 + \vec{V}_2 + \vec{V}_3 = \vec{0}$).

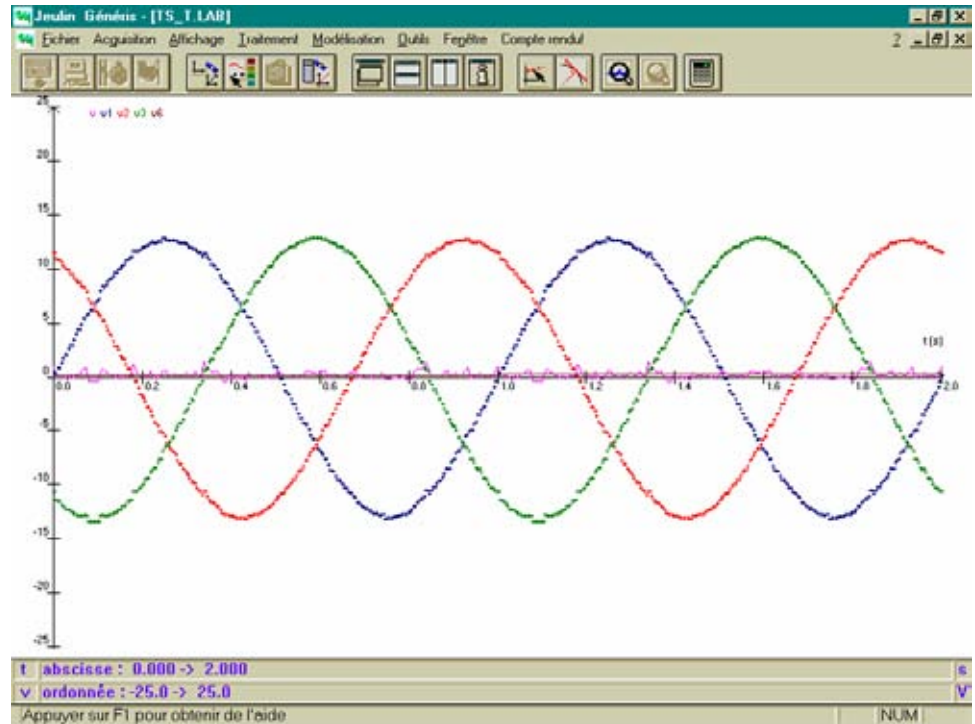
- Select Processing then Formula
 - Select: Curve to be processed: v1(t) ▼
 - Ordinate: Name: v
 - S.I. Units: V
 - Formula v = : v1+v2+v3
 - Resulting curve: v(t)
 - Click on Plot then Save and then Close
- Select Processing then Regression
 - Select: Curve to be processed: v(t) ▼
 - Processing interval Start: 0
 - End: 2
 - Equation V(t)
 - Click on Plot

We read for example:

$$23.9E-3 t + 182E-3$$


Correlation coefficient:

0.2%



Line voltages

2.6 Set-up

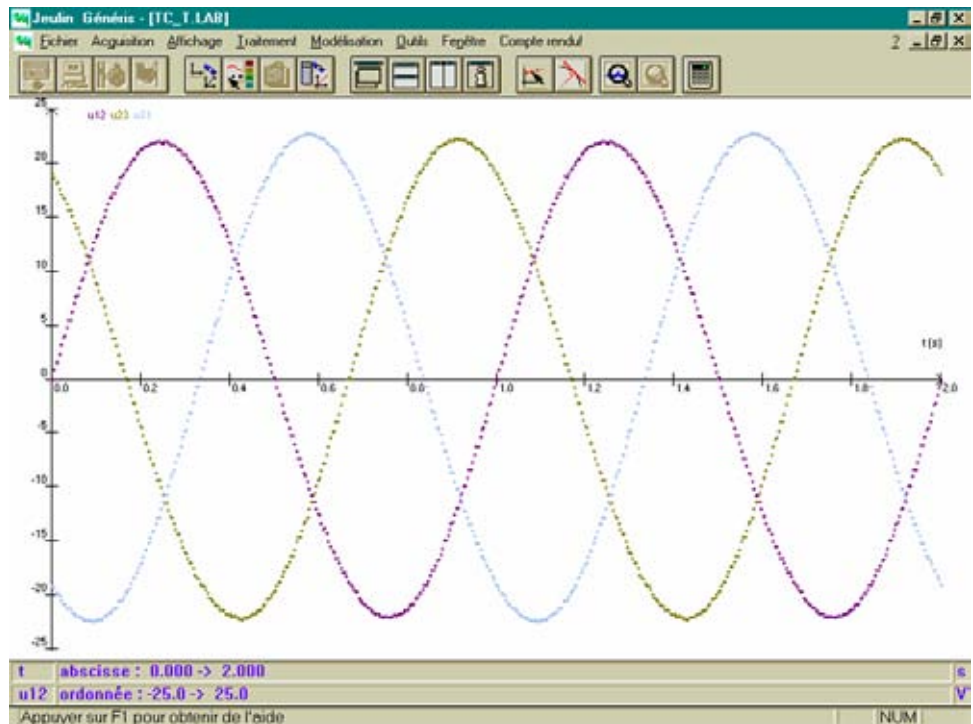


2.7 Experiment

- Perform the assembly.
- Select the Test and calibrate icon
 - Select: Channel: Voltmeter /
 Rated capacity: Ⓞ 25 V
 Ⓞ Instantaneous

- Adjust the zero
- Click on OK
- Select: Channel: Voltmeter//
Rated capacity: 25 V
 Instantaneous
- Adjust the zero
- Click on OK
- Select: Channel: Voltmeter///
Rated capacity: 25 V
 Instantaneous
- Adjust the zero
- Click on OK
- Select the Parameters icon
 - Validate: Acquisition mode, f(t) ▼
Acquisition time: 2 s ▼
Number of points: 501 ▼
 Synchronisation
 - Select: Channels on the ordinate: Voltmeter/
Voltmeter//
Voltmeter///
 - Click on Synchro...
 - Select: Channel: Voltmeter/ ▼
Level: 0
Synchronisation
 Increasing
 - Click on OK
 - Click on OK
- Select the Launch icon
 - Select: Magnitude: u12
Names of the curves to be acquired: u12(t)
Magnitude: u23
Names of the curves to be acquired: u23(t)
Magnitude: u31
Names of the curves to be acquired: u31(t)

- Click on Acquisition



2.8 Processing the curves

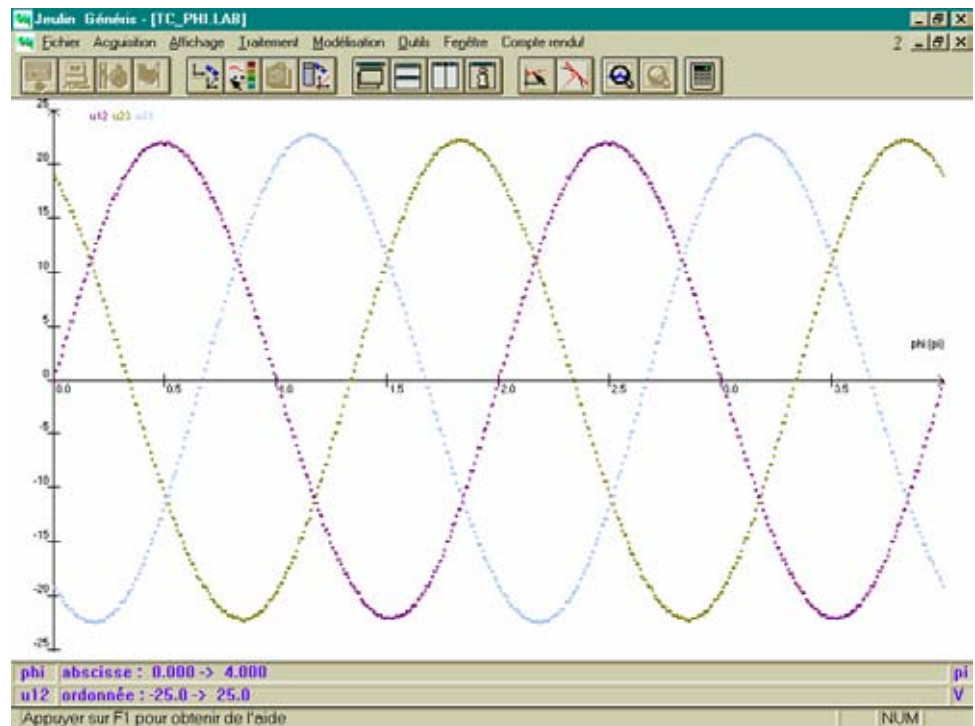
- Click on the Representation of curves icon
 - Select: Scales: Automatic.
 - Click on the Colours & Styles icon to modify the colour and the lines of the curves.

Represent $u_{12}(\pi)$, $u_{23}(\pi)$ and $u_{31}(\pi)$.

- Select Processing then Mapping
 - Select: Curve to be mapped: u12(t) ▼

Abscissa	S.I. Units:	pi
	Expression:	2*t
Ordinate:	Name:	u12
	S.I. Units:	V
	Expression	u12
Mapped curve:		u12(phi)
 - Click on Plot then Save and then Close

Do the same with the other curves $u_{23}(t)$ and $u_{31}(t)$.




- Click on the Pointer icon
 - Use the cross hair to measure:
 - The period of each of the line voltages
 - The offset from one line voltage to the other
 - The maximum value of each of the line voltages.

Use Zoom for a more accurate reading.

Phase to ground and line voltages

2.9 Set-up



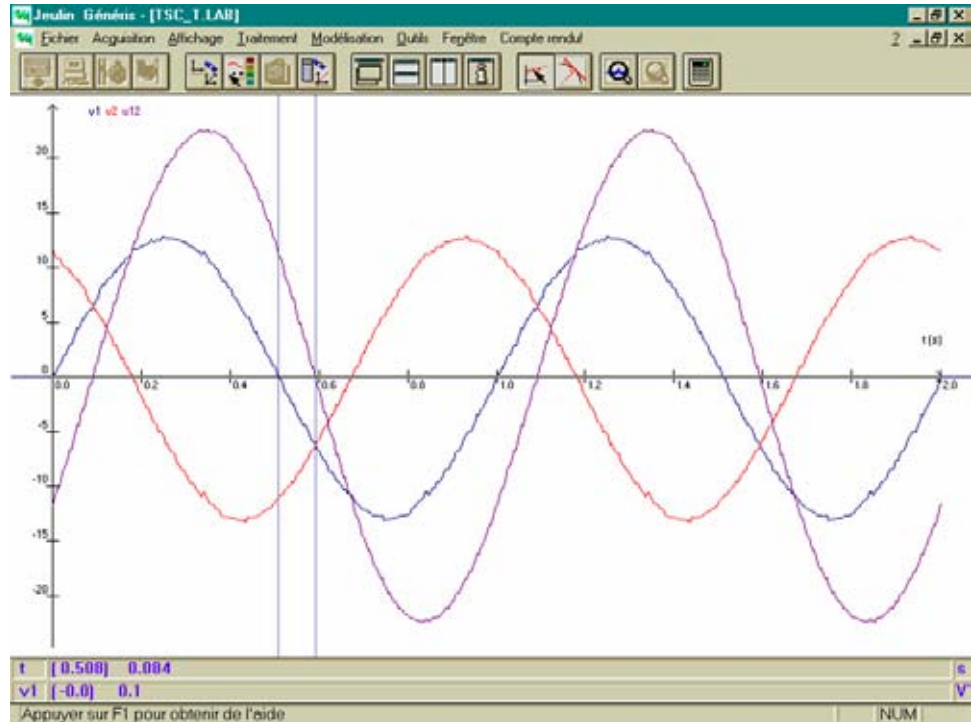
2.10 Experiment

- Perform the assembly.
- Start the computer; click on the Générés icon (the indicator lamp on the console comes on).
- Select the Test and calibrate icon
 - Select: Channel: Voltmeter /
 Rated capacity: 25 V
 Instantaneous
 - Adjust the zero
 - Click on OK
 - Select: Channel: Voltmeter//
 Rated capacity: 25 V
 Instantaneous
 - Adjust the zero
 - Click on OK
 - Select: Channel: Voltmeter///
 Rated capacity: 25 V
 Instantaneous
 - Adjust the zero
 - Click on OK
- Select the Parameters icon
 - Validate Acquisition mode: f(t) ▼
 Acquisition time: 2 ms ▼
 Number of points: 501 ▼
 Synchronisation
 - Select: Channels on the ordinate: Voltmeter/
 Voltmeter//
 Voltmeter///

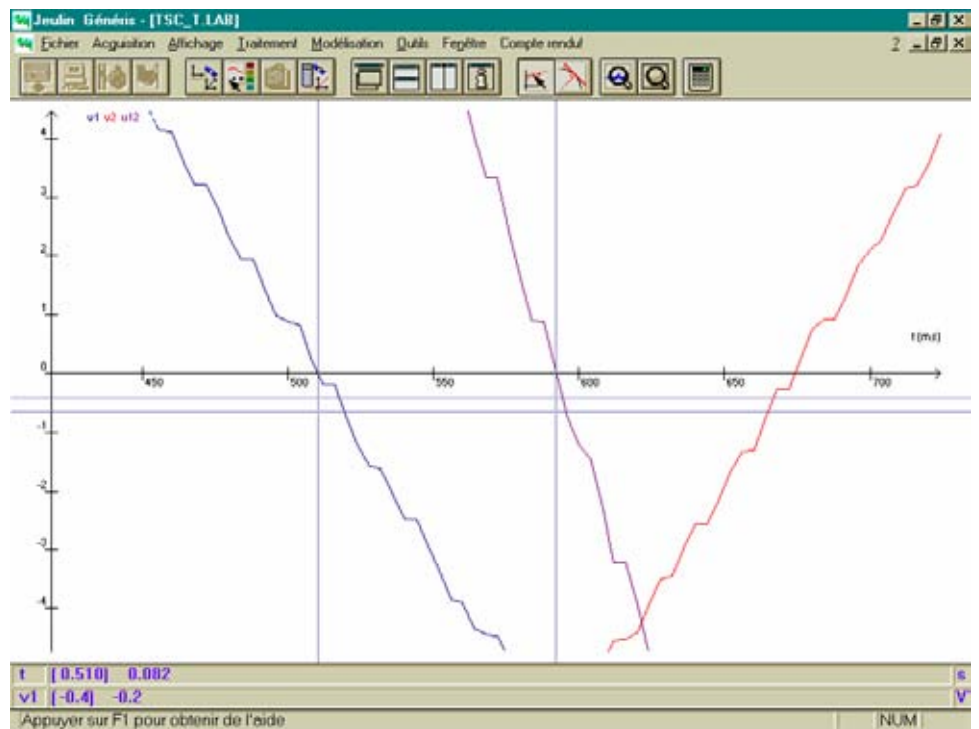
- Click on Synchro...
- Select: Channel: Voltmeter/ ▼
Level: 0
Synchronisation Increasing
- Click on OK
- Click on OK
- Select the Launch icon
 - Select: Magnitude: v1
Names of the curves to be acquired: v1(t)
Magnitude: v2
Names of the curves to be acquired: v2(t)
Magnitude: u12
Names of the curves to be acquired: u12(t)
 - Click on Acquisition

2.11 Processing the curves

- Click on the Representation of curves icon
 - Select: Scales: Automatic.
- Click on the Colours & Styles icon to modify the colour and the lines of the curves.
- Click on the Pointer icon
 - Use the cross hair to measure:
 - The period for each of the phase to ground and line voltages
 - The phase shift in line voltages u_{12} in relation to phase to ground voltage v_1
 - The maximum value of each of the voltages.



Use Zoom for a more accurate reading.



- Select Processing then Formula
 - Select: Curve to be processed: v1(t) ▼
 Ordinate: Name: U12
 S.I. Units: V
 Formula U = : v1-v2
 Resulting curve: U12(t)

- Click on Plot then on Save

Compare $u_{12}(t)$ and $U_{12}(t)$.

3 Viewing the voltages on an oscilloscope

3.1 Objective (see 2)

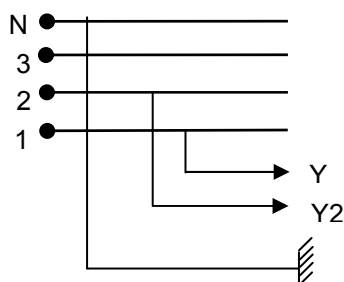
3.2 Equipment

- An extra-low voltage three-phase generator
- A dual-trace oscilloscope
- Four connecting wires.

3.3 Experiment

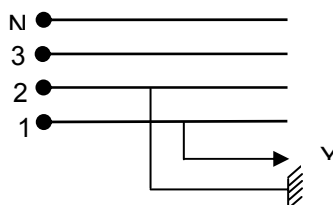
Work with a 150 Hz frequency to obtain a stable signal.

- ❖ View v_1 and v_2



- Press the INVERT Y2 button to view $-v_2$
- Press the ADD button to view $v_1 - v_2$
- Plot the oscillogram

- ❖ View u_{12}



Compare the two signals $v_1 - v_2$ and u_{12} .

To view the three voltages, use the two-way switch for phases 2 and 3.

4 Fresnel representation of voltages

We associate to every sinusoidal signal $u(t)$ a Fresnel vector \vec{U} that rotates at an angular velocity ω .

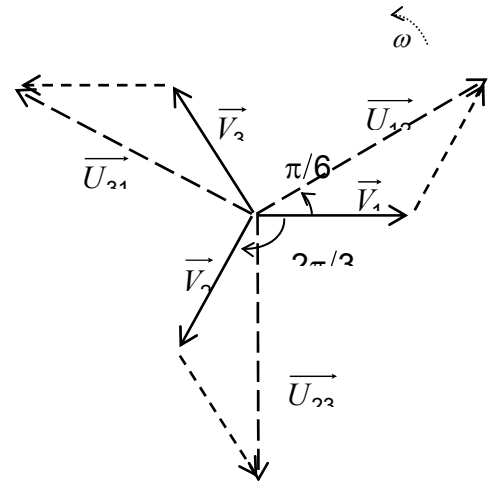
Represent the Fresnel vectors \vec{V}_1 , \vec{V}_2 and \vec{V}_3 associated to the three phase to ground voltages v_{1N} , v_{2N} and v_{3N} .

Represent the Fresnel vector \vec{U}_{12} associated to the line voltage u_{12} knowing that: $u_{12} = v_{1N} + v_{N2}$

That is $\vec{U}_{12} = \vec{V}_1 - \vec{V}_2$

Graphically check the relation between the phase to ground and line voltage.

Such a system is called balanced.



5 After-sales service

The device is under a 2-year guarantee, it must be sent back to our workshops.

For any repairs, adjustments or spare parts please contact:

JEULIN – TECHNICAL SUPPORT
Rue Jacques Monod
BP 1900
27 019 EVREUX CEDEX FRANCE
+33 (0)2 32 29 40 50

NOTES

Assistance technique en direct

Une équipe d'experts à votre disposition du Lundi au Vendredi (8h30 à 17h30)

- Vous recherchez une information technique ?
- Vous souhaitez un conseil d'utilisation ?
- Vous avez besoin d'un diagnostic urgent ?

Nous prenons en charge immédiatement votre appel pour vous apporter une réponse adaptée à votre domaine d'expérimentation : Sciences de la Vie et de la Terre, Physique, Chimie, Technologie .

Service gratuit *

0825 563 563 choix n° 3. **

* Hors coût d'appel : 0,15 € ttc / min. à partir d'un poste fixe.

** Numéro valable uniquement pour la France métropolitaine et la Corse.

Pour les Dom-Tom et les EFE, utilisez le + 33 (0)2 32 29 40 50

Aide en ligne : www.jeulin.fr

Rubrique FAQ



Rue Jacques-Monod,
Z.I. n° 1, Netreville,
BP 1900, 27019 Evreux cedex,
France

Tél. : + 33 (0)2 32 29 40 00
Fax : + 33 (0)2 32 29 43 99
Internet : www.jeulin.fr - support@jeulin.fr

Phone : + 33 (0)2 32 29 40 49
Fax : + 33 (0)2 32 29 43 05
Internet : www.jeulin.com - export@jeulin.fr

SA capital 3 233 762 € - Siren R.C.S. B 387 901 044 - Siret 387 901 04400017

Direct connection for technical support

A team of experts at your disposal from Monday to Friday (opening hours)

- You're looking for technical information ?
- You wish advice for use ?
- You need an urgent diagnosis ?

We take in charge your request immediately to provide you with the right answers regarding your activity field : Biology, Physics, Chemistry, Technology .

Free service *

+ 33 (0)2 32 29 40 50**

* Call cost not included

** Only for call from foreign countries

